

小学2年

トレーニング

算数

ペーパー[®]

・ 2年生になって

《見本》



1

2年生に なって

小2算数^{さんすう}①

きみも いよいよ 2年生ですね。
ことしも いっしょに べんきょうして
いきましょう。



『2年生に なって』のべんきょう

だい1日	グラフと ひょう	6
だい2日	とけい	16
だい3日	なん時なん分	26

とべ!! タイムマシーン




タイムマシーンで、つみ木の くにへ
たんけんだ!

つぎの ページを 見ると、もう
そこは つみ木の くに。
さあ、なにが あるかな?





ようこそ つみ木の くにへ。
 では、かんげいに、つみ木クイズを 出す
 ことにしよう。
 1, 2, 3で、つみ木は なんこ
 つんであるでしょう。



3	82
2	102
1	82
クイズの 答え	



どんな ことを べんきょうするのかな



◇2年生に なって・・・グラフを かいたり、ひょうを
よんだり します。また、とけいの みかた よみか
たを べんきょうします。

『2年生に なって』のべんきょう

だい1日	グラフと ひょう	6
だい2日	とけい	16
だい3日	なん時なん分	26





けいかくてきに べんきょうしていこう



どんなに ^{じかん}時間が なくても、赤ばんごうの
トレーニングだけは やってね。



トレペを ためては いけないよ。

おわったら
いろを
ぬってね。

	べんきょうする日	べんきょうした日	
だい1日	月 日 ()	月 日 ()	
だい2日	月 日 ()	月 日 ()	
だい3日	月 日 ()	月 日 ()	




2 年 生 に な っ て

グラフと ひょう

赤ばんごうの もんだいは、かならず しましょう。

💡 いろいろな 虫が いますね。
けんじくんが とってきました。



💡 ちょう、せみ、とんぼ、てんとうむしが います。

💡 ちょうは なんびき いるでしょう。3びきですね。
たくさん 虫が いるので、どれが いちばん おおい
のか、すぐに わかりませんね。

💡 きょうは、^{かず}数を しらべて せいりする しかたを べ
んきょうしましょう。

* むずかしくないけど、よく せつめいを よむんだよ。



グラフに かく



まえの ページの 虫を、おなじ なかまに わけて、グラフに かきましょう。

どの 虫が いちばん おおいでしょう。



せつめい

よく よんでね。

- ちょうは 3びき いますね。
とんぼは 6びき います。

- 右の ずは、虫の ^{かず}数だけ ○をかいて、くらべた ものです。
このように かいて、せいりしたものを、**グラフ**と いいます。

- この グラフを みると、せみがいちばん おおい ことが わかりますね。

(虫の 数)

	○		
	○		
	○	○	○
	○	○	○
	○	○	○
○	○	○	○
○	○	○	○
○	○	○	○
ちょう	せみ	とんぼ	てんとうむし

答え せみ

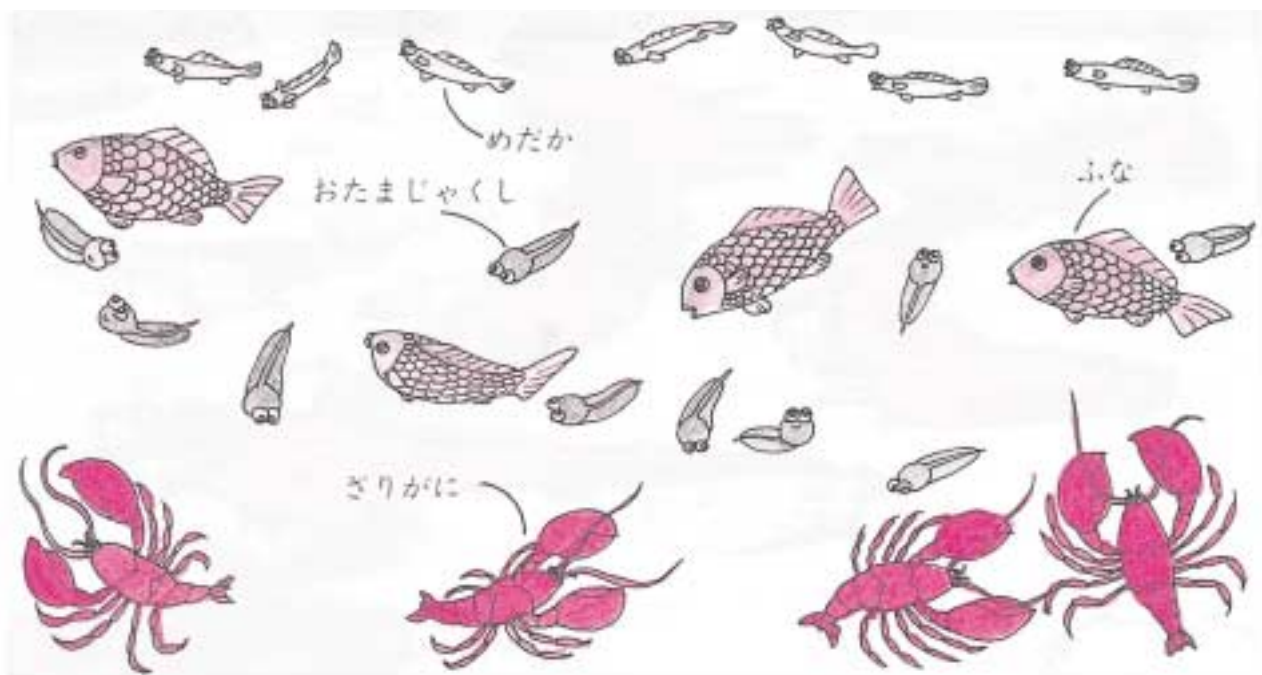
* いちばん すくない 虫は ちょうですね。グラフを みると、すぐ わかりますね。

* いろいろな グラフが できますよ。さあ、しっかり トレーニングしましょう。



答えは1ページ

1 いろいろな いきものが います。いきものの ^{かず} 数を しらべて、グラフに かきましょう。



(いきものの ^{かず} 数)

○			
○			
○			
○			
ざりがに	ふな	めだか	おたまじゃくし

2 よしおくんの くみでは、「たんじょう日しらべ」をしました。みんなが、じぶんの かおの えを 生まれた月の ところに はって、下のような グラフを つくりました。

(たんじょう日しらべ)



- (1) なん^{がつ}月生まれの 人が いちばん おおいでしょう。
[] 月生まれ
- (2) なん月生まれの 人が いちばん すくないでしょう。
[] 月生まれ
- (3) 4人 生まれたのは、5月と なん月でしょう。
[] 月

- * グラフに なれてきたね。答えあわせを してみよう。
- * つぎは わなげあそびを グラフに かく もんだだよ。
がんばれ。

3 けんじくんたちは、わなげを して あそびました。はいったときは ○、はいらなかったときは ×で あらわしました。

○	○	×	×
×	○	○	×
○	○	○	○
×	×	○	○
○	○	○	×
○	×	×	×
○	○	○	○
○	×	○	×
×	○	○	○
○	×	○	×
けんじ	ゆう子	すすむ	はる子

(1) はいった わの ^{かず}数を しらべて、下の グラフに あらわしましょう。

(2) いちばん おおく はいったのは だれでしょう。
[]

(3) いちばん すくなかったのは だれでしょう。
[]

(4) けんじくんは、ゆう子さんより なんこ おおく はいったでしょう。
[]こ

(はいった わの ^{かず}数)

○			
○			
○			
○			
○			
○			
けんじ			

(5) はいった ^{かず}数の おおい じゆんに、名まえを かきましょう。
[]

* グラフに あらわすと、だれが おおく はいったか、だれが すくなかったか、はっきりしますね。
答えあわせを しましょう。


* さあ、つぎは、べつの せいのり の しかたを べんきょうします。



ひょうに かく



かだんに 花が さいています。



- (1) どんな 花が、いくつ さいているか、しらべましょう。
- (2) パンジーは、ゆりより いくつ おおいでしょう。



せつめい

よく よんでね。

- (1) 右のように せいのり します。

これを **ひょう**と います。

(花の ^{かず}数)

ゆり	パンジー	すいせん	チューリップ
3	8	5	9

- (2) ひょうをみると、パンジーは 8つ、ゆりは 3つです。
8から 3を ひけば いいですね。

答え 5つ

* ひょうに かくと、^{かず}数が すぐに わかりますね。

* ひょうに かく トレーニングを しましょう。



答えは1ページ

4 みんなで わなげを して、せいせきを グラフに かきました。ひょうに、名まえと 数を かきましょう。

(はいつた わの 数)

		○	
○		○	
○	○	○	
○	○	○	
○	○	○	○
○	○	○	○
○	○	○	○
○	○	○	○
けんじ	ゆう子	すすむ	はる子

(はいつた わの 数)

名まえ	けんじ			
数	7			

5 みち子さんたちは、ボールで まとあてを しました。あたったときは ○、あたらなかったときは × で あらわしました。あたった 数を ひょうに かきましょう。

(あたった ボールの 数)

名まえ	みち子	としお	ゆき子	きよし
数				

○	○	×	×
○	×	○	×
×	○	×	×
○	○	○	○
×	○	×	○
×	○	×	×
○	×	×	○
○	×	○	○
○	○	○	×
×	○	○	×
みち子	としお	ゆき子	きよし

* きょうは、グラフや ひょうの べんきょうを しましたね。
では、まどめの トレーニングを しましょう。



答えは1ページ

6 下の えは、けんじくんたちが かいた、すきな のりものの えです。なんの えが なんまい あるか、ひょうに かきましょう。



(すきな のりもの)

しゅるい	でん車	ひこうき	ふ ね	じどう車	じてん車
数					

* かんたんだね。つぎの もんだいは どうかな。

7 けんじくんの クラスで、どうぶつを かけている 人を
しらべました。そして、下の ひょうに まとめました。
ひょうを 見て、グラフを かきましょう。

(どうぶつしらべ)

どうぶつ	いぬ	ねこ	ことり	さる
数	9	7	8	1

(どうぶつしらべ)

いぬ	ねこ	ことり	さる

どうぶつの ^{かず}数だけ
○を かきます。



8 おはじきあてを しました。
あたったら ○、はずれたら
×で あらわしました。

(1) あたった ^{かず}数を、つぎの ペ
ージの グラフや ひょうに
かきましょう。

○	×	○	×
×	○	○	×
×	○	○	○
○	○	×	○
×	○	○	×
○	○	○	○
×	○	○	○
○	×	○	×
○	○	×	○
○	×	○	×
けんじ	ゆう子	すすむ	はる子

(あたった ^{かず}数)

名まえ				
数				

(あたった ^{かず}数)

けんじ	ゆう子	すすむ	はる子

(2) あたった ^{かず}数の おおい じゆんに 名まえを かきましょう。

[]

(3) ゆう子さんは、けんじくんより いくつ おおく あてたでしょう。

[]

(4) すすむくんは、はる子さんより いくつ おおく あてたでしょう。

[]

* どうだい。たいへんだったかな。でも、おもしろかったね。
 グラフや ひょうが、よく わかったね。
 答えあわせを しましょう。きょうは、これで おわりです。



2 年 生 に な っ て

とけい


赤ばんごうの もんだいは、かならず しましょう。

- 💡 けんじくんは まいあさ 6時に おきます。
きみは あさ なん時ごろ おきますか。
- 💡 きょうは とけいの べんきょうです。
とけいが よめると とても べんりですね。

とけいの よみかた (なん時)

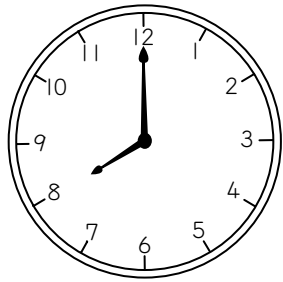
けんじくんの 1日の せいかつです。

- ① 6時……………おきて かおを あらう




とけいの はりは どこを さして いるでしょう。
とけいには 長い はりと みじかい はりがあります。
長い はりは 12を さして います。みじかい はりは
6を さして いますね。


① 8時^じ.....^{がっこう}学校へ いく




② 10時^じ.....じゅうちゅう




③ 12時^じ.....きゅうしょく




④ 2時^じ.....^{がっこう}学校から かえる



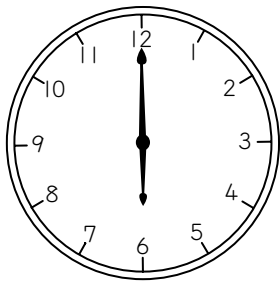
① 4時^じ.....あそぶ




② 5時^じ.....トレペで べんきょう




③ 6時^じ.....ゆうしょく



おきて かおを あらうのも ゆうしょくも 6時ですね。
おなじ 6時でも かおを あらうのは あさの 6時、ゆ
うしょくは ゆうがたの 6時です。



あさの 6時

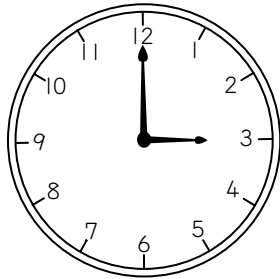


ゆうがたの 6時



こた
答えは3ページ

1 なん時でしょう。




みじかい はりは
どこを さしている
のかしら。




3 時

(1)




時

(2)




時

(3)




時

(4)




時

(5)



時

(6)

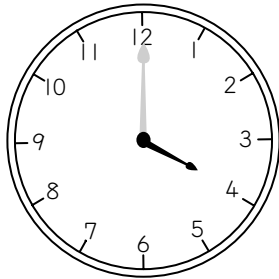


時

* こんどは とけいに 長い はりを かくんだよ。

2 とけいに ^{なが}長い はりを かきましょう。

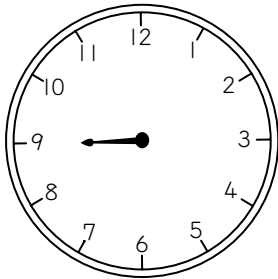
★ 4時




ちょうど なん時
という とき、長い
はりは どこをさし
て いるかな。




(1) 9時




(2) 2時



(3) 5時



(4) 12時




* ちょうど なん時と いう とき、長い はりは 12を さして
いるよね。

* ^{こた}答えあわせを しよう。

とけいの よみかた (なん時はん)

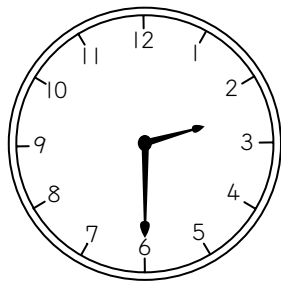
ゆうこさんの ^{にち}日ようびの ひるすぎの
せいかつです。

㊦ 1時はん……………けんじくんの いえへ いく

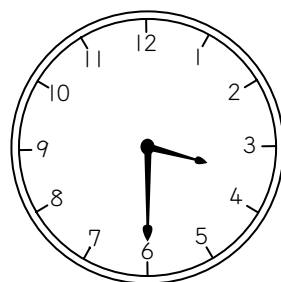


とけいの はりは どこを さして いるでしょう。
長い はりは 6を さして います。みじかい はりは
1と 2の まんなかを さして いますね。

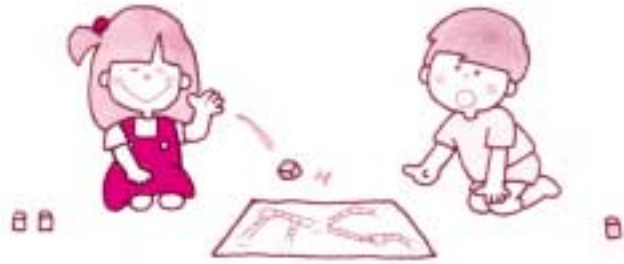
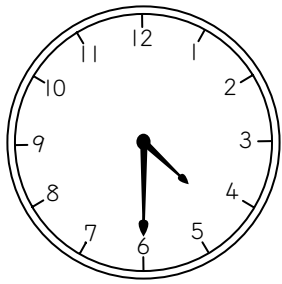
㊧ 2時はん……………そとで あそぶ




㊨ 3時はん……………おやつ



② 4時はん……………いえで あそぶ



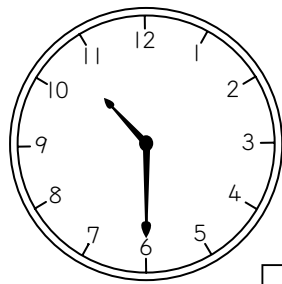
③ 5時はん……………さようなら



答えは3ページ

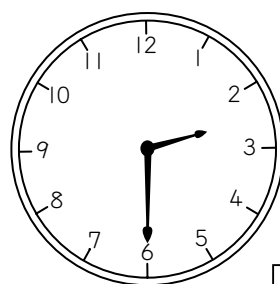
3 なん時でしょう。

(1)




時はん

(2)



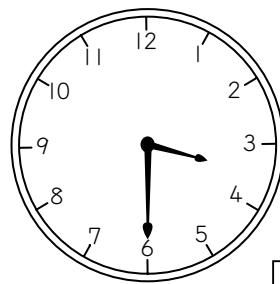
時はん

(3)



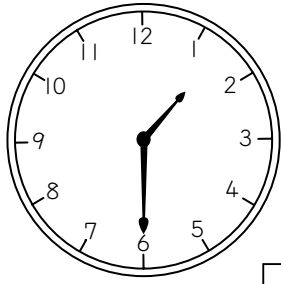
時はん

(4)



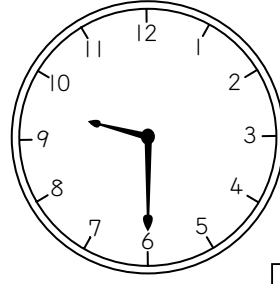
時はん

(5)



時はん

(6)




時はん


- * なん時はんというとき、長い はりは 6を さして いるね。
- * こんどは とけいに 長い はりを かこう。

4 とけいに 長い はりを かきましょう。


(1) 7時はん




(2) 5時はん



(3) 8時はん



(4) 10時はん




- * 答えあわせを しよう。
- * なん時はんという いいかたも わかったね。

* とけいが よめるように なったかな。おさらいを して おこう。

まどめの トレーニング

こた
答えは3ページ

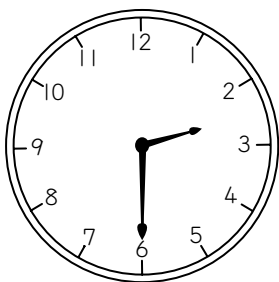
5 なん時でしょう。




11時はん




(1)




(2)



(3)



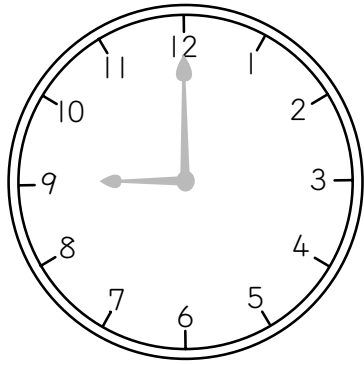
(4)



* つぎは 長い はりと みじかい はりと りょうほう かいてね。

6 とけいに 長い はりと みじかい はりを かきまし
よう。

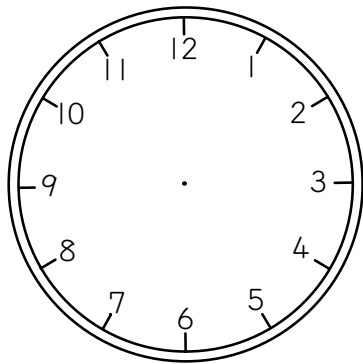
★ 9時



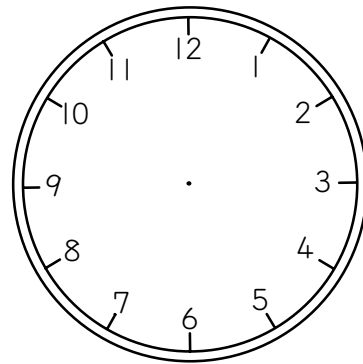
...




(1) 1時



(2) 8時




もうすぐ 3時



もうすぐ 3時

とけいの
はりが
うごいて



3時

* 答えあわせをしたら きょうは おわりだよ。



2 年 生 に な っ て

なん^じ時 なん^{ぶん}分

赤ばんごうの もんだいは、かならず しましよ。

💡 はりが どこを さして いるかを みると とけいが よめます。

とけいの よみかた

けんじくんの 1^{にち}日の せいかつです。

㊤ 6時……………おきる



6時の とき、とけいの はりは どこを さしていますか。

みじかい はりは 6を さして います。長いはりは 12を さして いますね。

ちょうど なん時と いう ときは、長い はりは 12を さして います。

① 8時……………学校に つく



② 8時10分……………きょうしつに はいる



8時10分の とき、とけいの はりは どこを さして いますか。

みじかい はりは 8と 9の あいだを さして います。 長い はりは 2をさして いますね。

とけいの 小さい^{ひと}めも りは 1分^{ぶん}です。


長い はりが 2をさして いれば、10分^{ぶん}です。



㊦ 10時15分^{ぶん}……………じゅぎょうちゅう



㊧ 12時30分^{ぶん}……………きゅうしょく



12時30分のとき、とけいの長いはりは6をさしています。

みじかいはりは12と1のまんなかをさしています。

12時30分を12時はんということもあります。

㊨ 1時37分……………こうていであそぶ



④ 2時53分……………学校から かえる



* とけいを よむ れんしゅうを しよう。



□ なん時でしょう。

答えは4ページ



□ 時

はりが さして
いる ところ
は どの
かな。



(1)



□ 時

(2)



□ 時

(3)



□ 時

(4)



□ 時

2 せんで おすびましよう。

(1)



.

.

7:15



.

.

8:00



.

.

9:30

(2)



.

.

2:20



.

.

1:45



.

.

4:35

3 とけいを よみましょう。



.....



時 分

(1)



時 分

(2)



時 分

(3)



時 分

みじかい はりで
なん時を よんで、
長い はりで
なん分を よめば
いいのね。



* ここまでの ^{こた} 答えあわせを しよう。
^{こた} 答えは 4ページだよ。

* とけいが よめると べんりだね。

もうすこし とけいを よむ れんしゅうを つづけよう。

4 とけいを よみましょう。

(1)



時 分

(2)



時 分

(3)



時 分

(4)



時 分

(5)



時 分

(6)



時 分

* とけいの よみかたは わかったよね。
こんどは とけいに 長い はりを かいてみよう。

5 とけいに 長い はりを かきましょう。

★ 4時15分



.....



(1) 7時



(2) 9時5分



(3) 11時30分



(4) 6時50分



* とけいの べんきょうは これで おしまい。たのしかったね。
4ページで 答えあわせを しよう。

こた
答 え

1 日

トレーニングの答え

1

(いきものの ^{かず}数)

			○
			○
			○
		○	○
		○	○
		○	○
○	○	○	○
○	○	○	○
○	○	○	○
○	○	○	○
ざりがに	ふな	めだか	おたまじゃくし

2

- (1) 9
- (2) 2
- (3) 11

3

(1) (はいった ^{かず}わの 数)

		○	
○		○	
○	○	○	
○	○	○	
○	○	○	○
○	○	○	○
○	○	○	○
○	○	○	○
けんじ	ゆう子	すすむ	はる子

- (2) すすむ
- (3) はる子
- (4) 1
- (5) すすむ、けんじ、ゆう子、はる子

4

(はいった ^{かず}わの 数)

名まえ	けんじ	ゆう子	すすむ	はる子
数	7	6	8	4

5

(あたった ^{かず}ボールの 数)

名まえ	みち子	としお	ゆき子	きよし
数	6	7	5	4

6

(すきな のりもの)

しゅるい	でん車	ひこうき	ふね	じどう車	じてん車
数	4	2	4	7	3

7

(どうぶつしらべ)

○			
○		○	
○	○	○	
○	○	○	
○	○	○	
○	○	○	
○	○	○	
○	○	○	
○	○	○	○
い	ね	こ	さ
ぬ	こ	どり	る

8 (1)

(あたった ^{かず}数)

名まえ	けんじ	ゆう子	すすむ	はる子
数	6	7	8	5

(あたった ^{かず}数)

		○	
	○	○	
○	○	○	
○	○	○	○
○	○	○	○
○	○	○	○
○	○	○	○
○	○	○	○
けんじ	ゆう子	すすむ	はる子

(2) すすむ、 ゆう子、 けんじ、 はる子

(3) 1つ

(4) 3つ

2 日

トレーニングの答え

1



3時

(1)

8時

(2)

5時

(3)

12時

(4)

10時


(5)

9時


(6)

11時

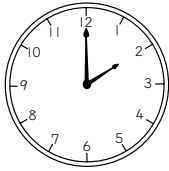
2




(1)




(2)



(3)



(4)



3

(1) 10時はん

(2) 2時はん

(3) 5時はん

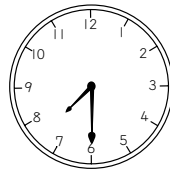
(4) 3時はん

(5) 1時はん


(6) 9時はん

4


(1)




(2)



(3)



(4)



5



11時はん

(1)

2時はん

(2)

11時

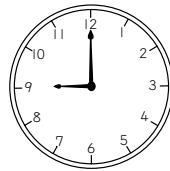
(3)

5時はん


(4)

3時


6



(1)



(2)



発行人 高森圭介

発行所 株式会社 キョーイクソフト

東京都東村山市恩多町 1-12-3 〒189-0011 Printed in Japan